

1) Βρες τα πηλίκα των παρακάτω διαιρέσεων με το 100.

α) $1 : 100$

β) $4 : 100$

γ) $18 : 100$

δ) $76 : 100$

ε) $402 : 100$

στ) $642 : 100$

ζ) $5.015 : 100$

η) $6.030 : 100$

2) Βρες τα πηλίκα των παρακάτω διαιρέσεων με το 1.000.

α) $6 : 1.000 =$

β) $7 : 1.000$

γ) $25 : 1.000$

δ) $82 : 1.000$

ε) $99 : 1.000$

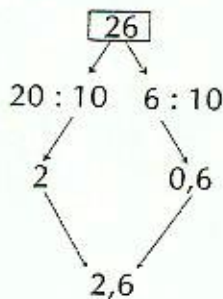
στ) $410 : 1.000$

ζ) $805 : 1.000$

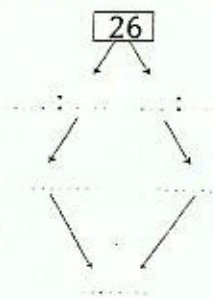
η) $5.163 : 1.000$

3) Υπολόγισε τα πηλίκα όπως στο παράδειγμα.

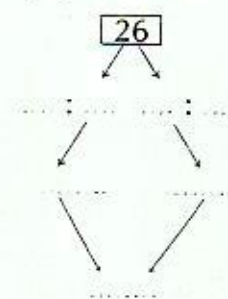
α) $26 : 10$



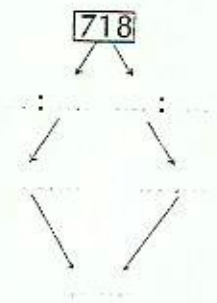
β) $26 : 100$




γ) $26 : 1.000$



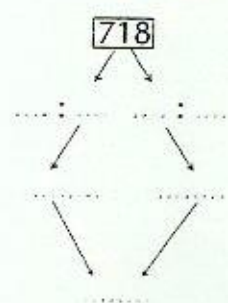
δ) $718 : 10$



ε) $718 : 100$



στ) $718 : 1.000$



4) Παρατήρησε και συμπλήρωσε τα παρακάτω κενά.

α) $10.000 \xrightarrow{:10} 1.000$,

β) $16.000 \xrightarrow{:10} 1.600$,